

النموذج الأول

مجاب عليه

السؤال الأول

(١) أمامك خريطة صماء لمصر، اكتب مدلول الأرقام عليها:

- ١- مدينة يزيد سكانها على ٨ ملايين نسمة
- ٢- أقل محافظات مصر أمية
- ٣- واحة تحتفل بعيد السياحة
- ٤- أقل محافظات مصر سكاناً

(ب) حدد: دور المواطن في تطوير محافظته.



السؤال الثاني

- اختر الإجابة الصحيحة مما بين القوسين:

- ١- يعاون المحافظ في إدارة شئون المحافظة..... (المواطن - المجلس المحلي - رئيس الوزراء - الوزير)
- ٢- يمثل تراث أهل جزءاً من الهوية المصرية وامتداداً للحضارة الفرعونية. (النوبة - الصعيد - سيوة - القناة)
- ٣- مسئول عن سن القوانين في الدولة (مجلس النواب - المجلس المحلي - مجلس الوزراء - مجلس الدولة)
- ٤- اليوم الدولي لمحو الأمية قامت منظمة بإعلانه. (الصحة - الفاو - اليونسكو - اليونسيف)
- ٥- يتم إجراء تعداد سكاني في مصر كل سنوات. (سبع - ثمانى - تسع - عشر)

السؤال الثالث

- ضع علامة (✓) أمام العبارة الصحيحة، وعلامة (X) أمام العبارة غير الصحيحة فيما يلي:

- ١- أسس المصريون القدماء دولة لها نظام حكم ثابت. ()
- ٢- حجم الأسرة الكبير في الريف يؤدي لارتفاع مستوى المعيشة. ()
- ٣- يحرص الدستور المصري على تواجد المرأة بالمجالس المحلية. ()
- ٤- تنخفض نسبة البطالة في الريف عن الحضر في مصر. ()
- ٥- السياح يأتون إلى واحة سيوة للاحتفال بعيد السياحة. ()

قيم أدائك



النموذج الثاني

مجاب عنه

١٥

السؤال الأول

(أ) أمامك خريطة صماء لمصر، اكتب مدلول الأرقام عليها:

- ١- محافظة يقل بها عدد السكان
- ٢- أعلى محافظات مصر أمية
- ٣- محافظة تشتهر بألة السمسمية
- ٤- البحر

(ب) اذكر النتائج المترتبة على: انتشار الأمية في مصر.



www.Cryp2Day.com
موقع مذكرات جاهزة للطباعة

السؤال الثاني

- اكتب كلمة (صواب) أمام العبارة الصحيحة، وكلمة (خطأ) أمام العبارة غير الصحيحة فيما يلي:

- ١- المحافظ هو المسئول عن حفظ الأمن والنظام داخل المحافظة. ()
- ٢- المجلس المحلي يتم انتخاب أعضائه كل خمس سنوات. ()
- ٣- رئيس الجمهورية مهمته إدارة شئون البلاد. ()
- ٤- اختراع الكتابة الهيروغليفية من مظاهرها اهتمام المصري القديم بالتعليم. ()
- ٥- يتساوى توزيع السكان بين محافظات مصر. ()

السؤال الثالث

(أ) صنف الأدوار الآتية حسب المسئول عن تنفيذها:

(توفير فرص العمل لأبناء المحافظة - معاونة المحافظ في إدارة شئون المحافظة - متابعة جودة المرافق والخدمات العامة كالتعليم - العمل على متابعة تنفيذ خطط التنمية في المحافظة)

المجلس المحلي	المحافظ

(ب) فسر بذكر سببين:

- انخفاض عدد السكان في محافظة جنوب سيناء.



النموذج الثالث

مجاب عنه

السؤال الأول

١٥



(أ) أمامك خريطة صماء لمصر، اكتب ما تشير إليه الأرقام الآتية:

- ١- محافظة يزيد سكانها عن ٨ ملايين نسمة
- ٢- منطقة تشتهر بفن التحطيب
- ٣- البحر
- ٤- محافظة تنخفض بها نسبة الأمية

(ب) اذكر نتيجة واحدة لـ

- إنشاء الدولة للهيئة العامة لتعليم الكبار ومحو الأمية.

السؤال الثاني

- ضع علامة (✓) أمام العبارة الصحيحة، وعلامة (X) أمام العبارة غير الصحيحة فيما يلي:

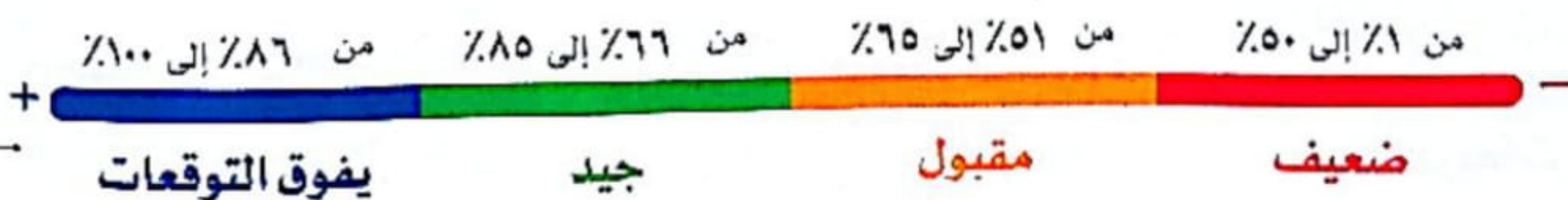
- ١- حصر عدد السكان كل عدة سنوات يقصد به التعداد السكاني. ()
- ٢- لهجات الوجه البحري هي الأقرب إلى لغة المصريين القدماء. ()
- ٣- المشكلات الاجتماعية ليس لها تأثير على الجانب الاقتصادي. ()
- ٤- تكفل الدستور المصري بحق المواطن في تقديم شكاوى لمجلس النواب. ()
- ٥- رئيس الجمهورية يمثل مصر محلياً ودولياً. ()

السؤال الثالث

- ضع دائره حول الإجابة الصحيحة:

- ١- الهجرة من الريف إلى الحضر في مصر نتج عنها ظهور.....
(العشوائيات - المدن - القرى - المراكز)
- ٢- إنشاد السيرة الهلالية يشتهر به سكان.....
(القناة - الصعيد - الحدود - الواحات)
- ٣- تساهم مشكلة..... في انتشار الجهل والخرافات بين الناس.
(التنمر - البطالة - الهجرة - الأمية)
- ٤- حاكم البلاد في مصر القديمة يتمثل في.....
(الوزير - الكاهن - رئيس الإدارة المركزية - الفرعون)
- ٥- المحافظ يتم تعيينه من قبل.....
(الوزير - رئيس الجمهورية - رئيس الوزراء - رئيس الوحدة المحلية)

قيم أداءك



النموذج الأول

مجاب عنه

السؤال الأول

(أ) أمامك خريطة صماء لمصر، اكتب مدلول الأرقام عليها:

- ١- محمية تقع جنوب سيناء
- ٢- محافظة حضرية
- ٣- منطقة مهددة بتآكل التربة
- ٤- محافظة تقع بها الكنيسة المعلقة

(ب) أثبت صحة العبارة الآتية:

- يحرص الدستور المصري على تواجد المرأة بالمجالس المحلية.

السؤال الثاني

- صوب ما تحته خط:

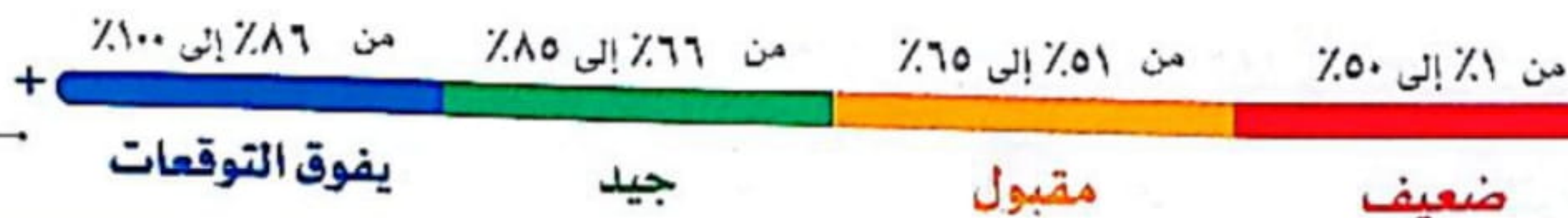
- ١- من السلوكيات الإيجابية لمس القطع الأثرية أو الوقوف ملاصقين بها. (.....)
- ٢- بنى حصن بابليون في عهد الاحتلال الفارسي لمصر. (.....)
- ٣- الذين يمارسون حرفة الزراعة هم سكان الحضر. (.....)
- ٤- يقع دير سانت كاترين في محافظة البحر الأحمر. (.....)
- ٥- ترتفع معدلات الأمية بين الذكور في مصر. (.....)

السؤال الثالث

- ضع علامة (✓) أمام العبارة الصحيحة، وعلامة (X) أمام العبارة غير الصحيحة فيما يلي:

- ١- كان المصريون القدماء يعتقدون في البعث والخلود. ()
- ٢- جامعة «أون» ثاني جامعة في التاريخ. ()
- ٣- السياحة الثقافية تتميز بزيارة الشواطئ الساحلية. ()
- ٤- طريق الكباش أنشأه المصري القديم لإقامة الاحتفالات الكبرى الملكية والدينية. ()
- ٥- وسائل الإعلام تستخدم في رفع الوعي المجتمعي بأهمية التعليم. ()

قيم أداءك



النموذج الثاني

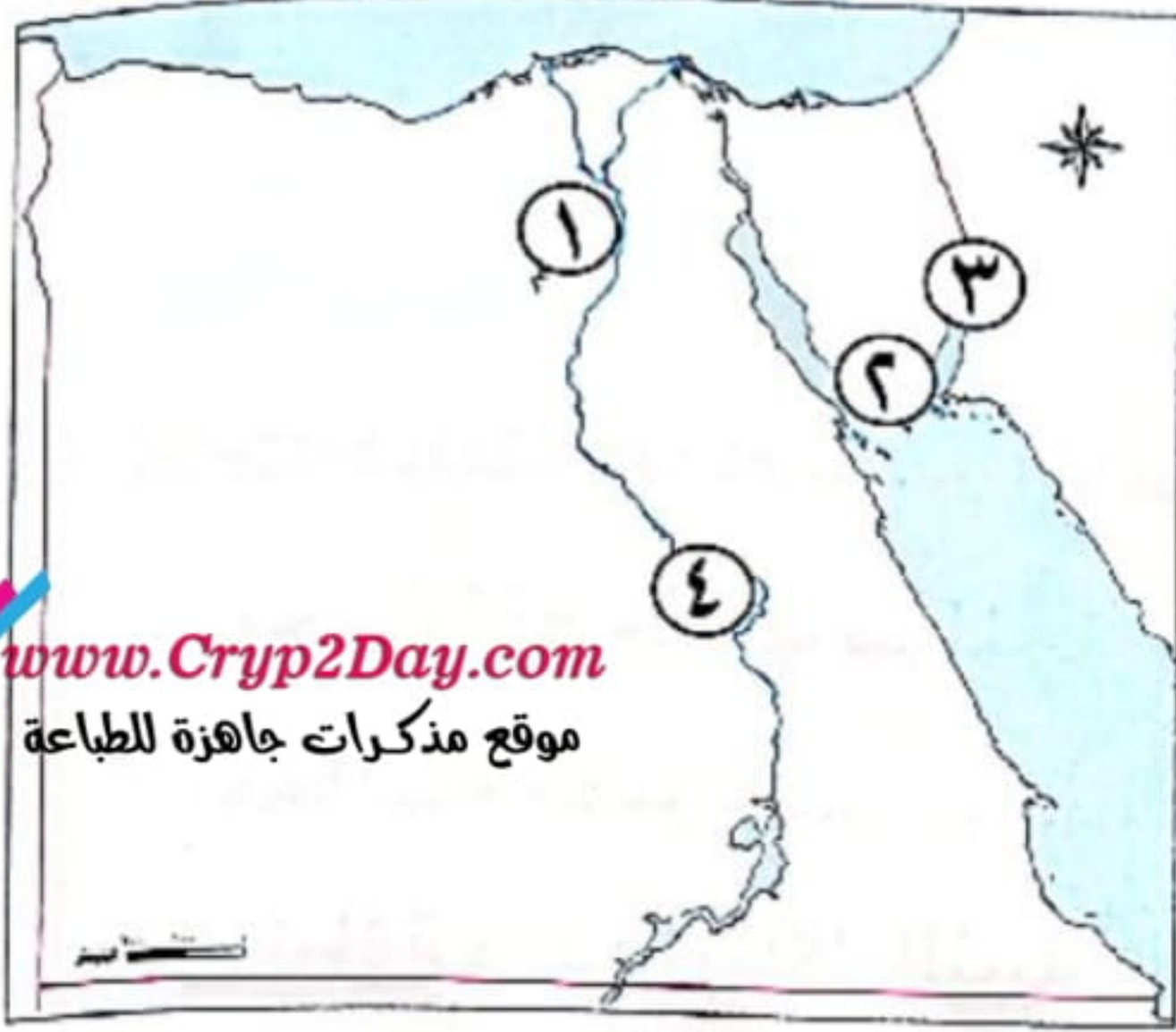
مجاب عنه

السؤال الأول

(أ) أمامك خريطة صماء لمصر، اكتب مدلول الأرقام عليها:

- ١- محافظة بها الأهرامات الثلاثة
- ٢- مدينة سياحية
- ٣- خليج
- ٤- نهر

(ب) فسر مع ذكر سبب: بناء قلعة صلاح الدين في مدينة طابا.



www.Cryp2Day.com
موقع مذكرات جاهزة للطباعة

السؤال الثاني

- اختر الإجابة الصحيحة مما بين الأقواس:

- ١- زيارة خان الخليلي في القاهرة تعد من السياحة (الترفيهية - الثقافية - العلاجية - المؤتمرات)
- ٢- محمية الغابات المتحجرة توجد في محافظة (الجيزة - القاهرة - الإسكندرية - أسوان)
- ٣- من المساجد التي تم ترميمها في مشروع تطوير القاهرة التاريخية مسجد
(المرسى أبو العباس - أحمد بن طولون - السيد البدوي - القائد إبراهيم)
- ٤- من المحافظات الحضرية (الشرقية - الغربية - بورسعيد - المنوفية)
- ٥- تم إجراء تعداد للسكان في مصر القديمة في عهد الملك
(سنوسرت الثالث - أمنمحات الأول - أمنحتب الثالث - رمسيس الثاني)

السؤال الثالث

(أ) صوب ما تحته خط:

- ١- تعد محمية وادي الريان من أهم المعالم السياحية في محافظة الجيزة. (.....)
- ٢- الجهاز المسئول عن إجراء التعداد السكاني هو الجهاز المركزي للمحاسبات. (.....)
- ٣- اللوحة المنقوشة في معبد الكرنك تمثل الإله أمون يُعَلِّم الملك التحطيب. (.....)
- ٤- الصناعة المصدر الأول للعمالات الأجنبية. (.....)

(ب) اذكر نتيجة واحدة ل:

- تعدد أنواع السياحة في مصر.



قيم أداءك

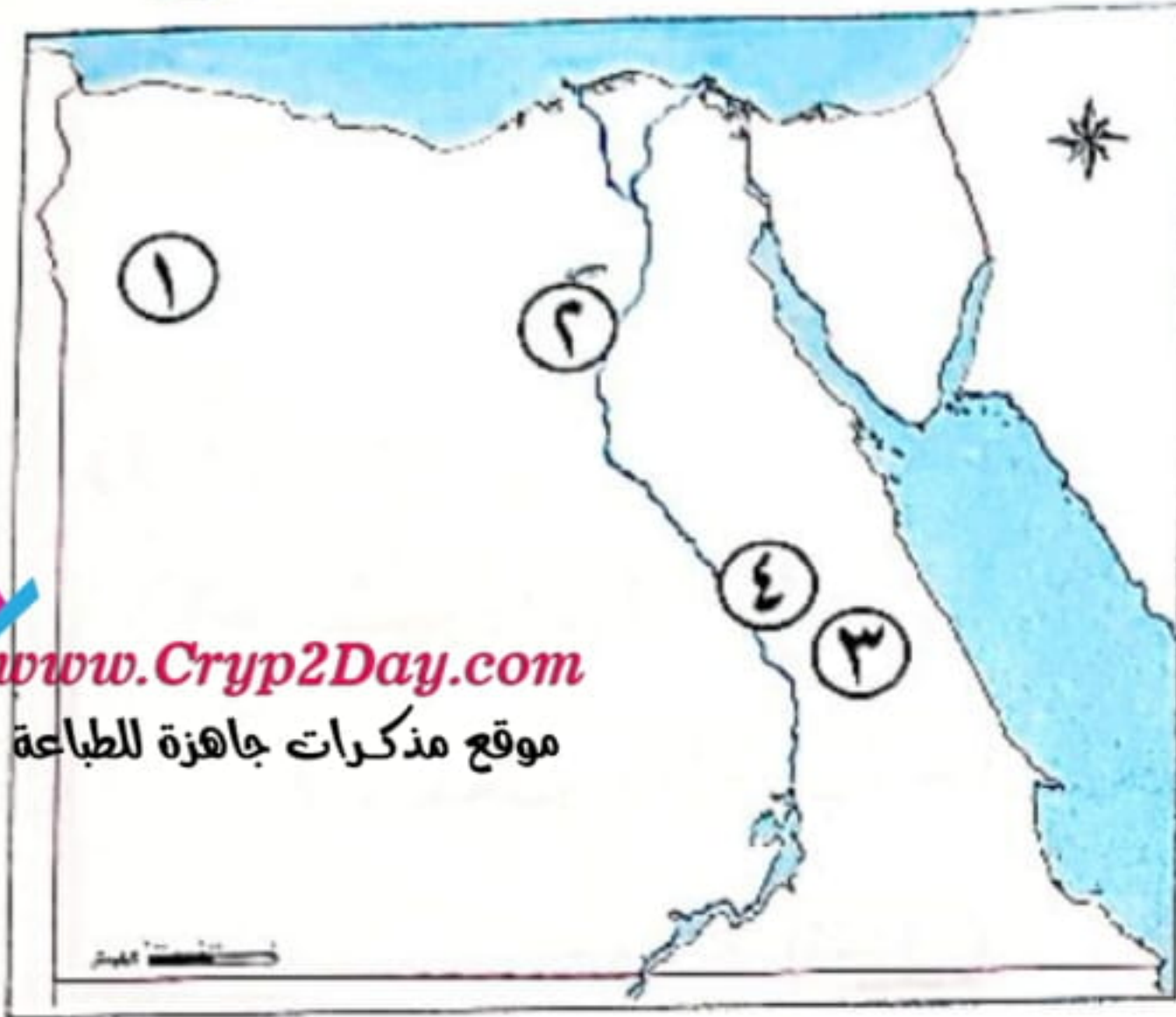


النموذج الثالث

مجاب عنه

السؤال الأول

١٥



www.Cryp2Day.com
موقع مذكرات جاهزة للطباعة

(أ) أمامك خريطة صماء لمصر، اكتب مدلول الأرقام عليهما:

- ١- واحة تشتهر بالسياحة العلاجية
- ٢- محافظة بها محمية وادي الريان
- ٣- محافظة تنخفض بها نسبة الأمية
- ٤- محافظة يقع فيها متحف السيرة الهلالية

(ب) ما العلاقة بين:

جمال الظواهر الطبيعية وقائمة التراث العالمي لليونسكو؟

السؤال الثاني

- صوب ما تحته خط:

- ١- محمية رأس محمد توجد في شمال سيناء. (.....)
- ٢- فن التحطيب تم إدراجه ضمن قائمة التراث العالمي لليونسيف. (.....)
- ٣- يشتهر سكان مدن القناة بأغانٍ مرتبطة بألة البيانو. (.....)
- ٤- منطقة رأس محمد توجد بها هياكل لحياتان وحفريات لأسماك. (.....)
- ٥- برج إيفل تم تصميمه على شكل زهرة اللوتس التي تعد رمزاً للحضارة المصرية. (.....)

السؤال الثالث

(أ) قارن بين: سكان الريف وسكان الحضر من حيث (أماكن سكنهم - المهن).

وجه المقارنة	سكان الريف	سكان الحضر
أماكن سكنهم		
المهن		

(ب) اذكر سبباً واحداً لزيارة السياح للمدن الشاطئية على البحر الأحمر.

قيم أداءك



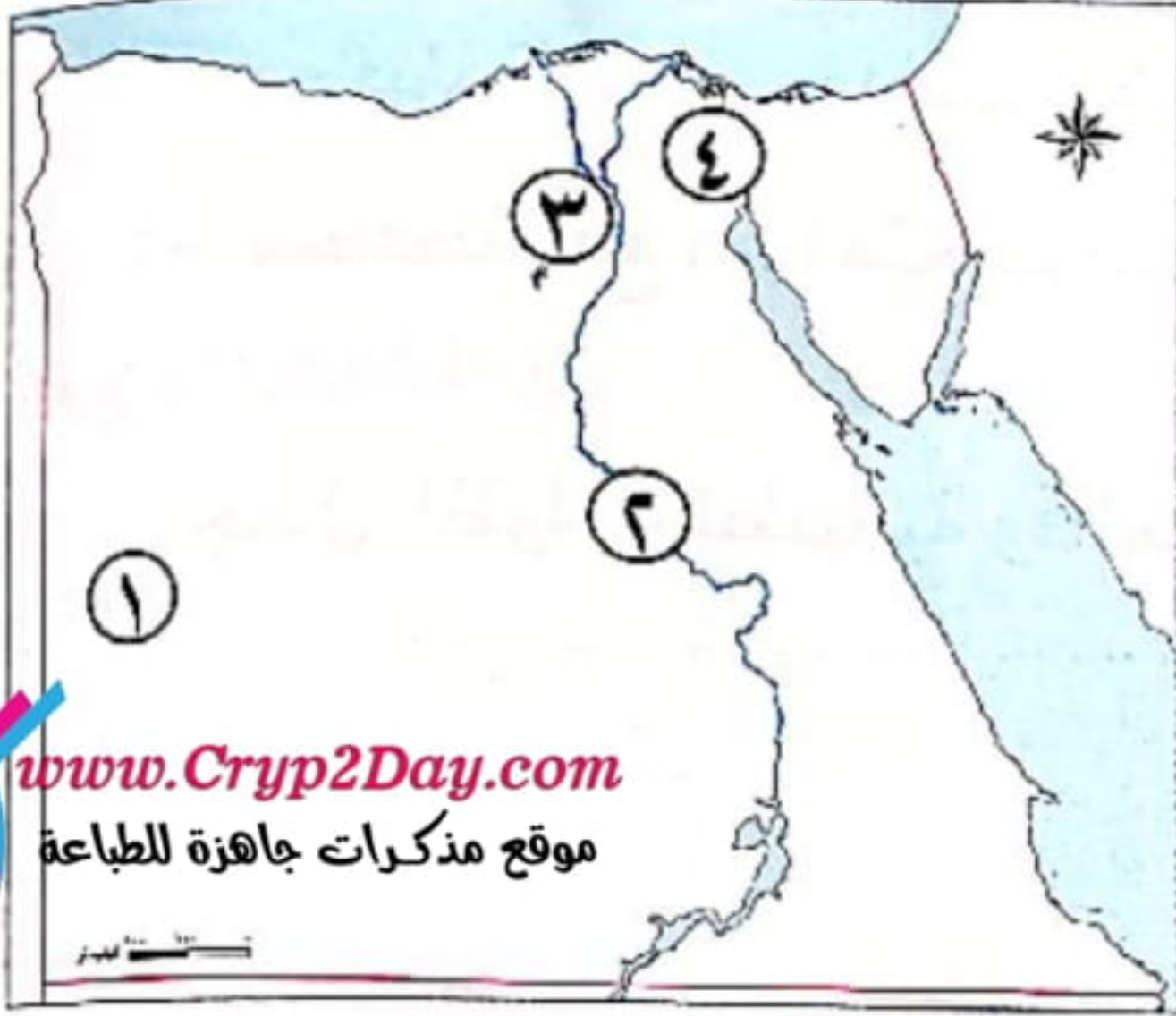


النموذج الأول

مجاب عنه

السؤال الأول

(أ) أمامك خريطة صماء لمصر، ادرسها ثم اختر ما تشير إليه الأرقام مما بين القوسين:



١- يشير رقم (١) إلى.....

(الصحراء الغربية - الصحراء الشرقية - شبه جزيرة

سيناء - وادي النيل)

٢- يشير رقم (٢) إلى.....

(الدلتا - الصحراء الغربية - وادي النيل - الصحراء

الشرقية)

٣- يشير رقم (٣) إلى محافظة..... (القاهرة - الشرقية - الإسماعيلية - الفيوم)

٤- يشير رقم (٤) إلى..... (البحر المتوسط - البحر الأحمر - نهر النيل - قناة السويس)

(ب) فسر بذكر سبب واحد:

١- استخدام المصريين القدماء السفن.

٢- استخدام النقل المائي.

السؤال الثاني

(أ) اكتب كلمة (صواب) أمام العبارة الصحيحة، وكلمة (خطأ) أمام العبارة غير الصحيحة فيما يلي:

١- تجاوز السرعة المحددة أثناء القيادة من قواعد القيادة السليمة. ()

٢- محمية الغابة المتحجرة من التراث الطبيعي. ()

٣- الساعة السكانية تظهر تقديرات لعدد سكان مصر. ()

٤- تتميز محافظة جنوب سيناء بوفرة موارد المياه. ()

٥- العصور التاريخية بدأت قبل معرفة الإنسان للكتابة. ()

(ب) اذكر نتيجة واحده ل:

- إجراء التعداد السكاني.

السؤال الثالث

(أ) صنف الأماكن التراثية الآتية إلى (تراث ثقافى، تراث طبيعى):

(سورمجرى العيون - محمية وادى الريان - قلعة صلاح الدين - محمية رأس محمد)

تراث طبيعى	تراث ثقافى

(ب) أكمل العبارات الآتية:

- ١- المصرى القديم بعدما استقر على ضفاف النيل عرف حرفة
- ٢- المشروع القومى لتطوير الريف يساعد فى تحسين مستوى الخدمات مثل
- ٣- محمية وادى الريان تتميز بـ
- ٤- فى عصر الدولة الإسلامية تم إجراء عد للأفراد استمر شهور.

السؤال الرابع

(أ) صوب ما تحته خط:

- ١- استخدم المصريون القدماء السيارات فى التنقل. (.....)
- ٢- التراث الثقافى يشمل المواقع ذات القيمة ولم يتدخل الإنسان فى صنعها. (.....)
- ٣- تشتهر مدن القناة بفن التحطيب والسيرة الهلالية. (.....)
- ٤- يقع معبد أبو سمبل فى محافظة الإسكندرية. (.....)
- ٥- محافظة البحر الأحمر أعلى المحافظات التى ترتفع بها نسبة الأمية. (.....)

(ب) وضع:

- جهود الدولة فى القضاء على الأمية.

.....

.....



قيم أداءك



النموذج الثاني

مجاب عنه

السؤال الأول

(1) أمامك خريطة صماء لمصر، ادرسها ثم اكتب ما تشير إليه الأرقام:

- ١- يشير رقم (١) إلى قناة
- ٢- يشير رقم (٢) إلى ميناء
- ٣- يشير رقم (٣) إلى نهر
- ٤- يشير رقم (٤) إلى الصحراء

(ب) وضع:

١- إحدى عيوب استخدام الإنترنت.

٢- إحدى المهام التي يقوم بها المحافظ.

السؤال الثاني

(1) صوب ما تحته خط:

- ١- في مصر القديمة كان المحافظ يعاون الحاكم في إدارة شئون البلاد. (.....)
- ٢- الكتابة على بعض القطع الأثرية يعد سلوكًا إيجابيًا. (.....)
- ٣- من المعوقات التي تؤثر على الخطط التنموية بناء المدارس. (.....)
- ٤- من أمثلة المصادر غير الموثوقة للمعلومات الكتب. (.....)
- ٥- تنقسم العلامات المرورية إلى خمسة أقسام. (.....)

(ب) ما النتائج المترتبة على ...؟

- انتشار الأمية في مصر.

السؤال الثالث

(1) اختر الإجابة الصحيحة مما بين القوسين:

١- محمية الغابات المتحجرة توجد في محافظة

(القاهرة - الجيزة - دمياط - السويس)

٢- من معالم النوبة معبد «إيزيس» فى جزيرة

(شدران - فيلة - الجفتون - الزمالك)

٣- أكثر المحافظات المصرية من حيث عدد السكان

(قنا وأسوان - القاهرة والجيزة - الشرقية والغربية - المنوفية والإسكندرية)

٤- سكان واحة سيوة يحتفلون بحصاد التمور والزيتون فى عيد

(التجارة - الزراعة - الصناعة - السياحة)

(ب) **قارن بين** سكان الحضر والريف من حيث أهم الأنشطة التى يمارسها السكان وواحدة من المشكلات التى تواجههم:

وجه المقارنة	سكان الحضر	سكان الريف
الأنشطة		
المشكلة		

السؤال الرابع

(أ) **اكتب كلمة (صواب) أمام العبارة الصحيحة، وكلمة (خطأ) أمام العبارة غير الصحيحة فيما يلى:**

- ١- تؤدى الأمية إلى زيادة الوعى فى المجتمع. ()
- ٢- النقل الجوى يستخدم فى نقل البضائع سريعة التلف. ()
- ٣- ترتفع معدلات الأمية بين الإناث فى مصر. ()
- ٤- استخدم المصريون القدماء العربة التى تجرها الخيول فى الصيد. ()
- ٥- تواصل الإنسان فى العصور التاريخية عبر الأصوات العالية. ()

(ب) **اذكر سببًا:**

- استخدام الإنسان الحمام الزاجل فى العصور القديمة.



النموذج الثالث

مجاب عنه

السؤال الأول

(أ) أمامك خريطة صماء لمصر، ادرسها ثم اكتب ما تشير إليه الأرقام:

- ١- يشير رقم (١) إلى أقل محافظات مصر أمية
- ٢- يشير رقم (٢) إلى خليج
- ٣- يشير رقم (٣) إلى البحر
- ٤- يشير رقم (٤) إلى نهر

(ب) حدد العلاقة بين كل من:

١- شركة مصر للطيران وبنك مصر.

٢- البطالة وانتشار الجريمة.

السؤال الثاني

(أ) ضع دائرة حول الإجابة الصحيحة:

١- من موانئ ساحل البحر المتوسط

(السويس - الغردقة - سفاجا - الإسكندرية)

٢- المركز الذي تحتله شركة مصر للطيران من حيث الإنشاء على مستوى العالم

(الخامس - السادس - السابع - الثامن)

٣- مترو الأنفاق يربط بين القاهرة وشبرا الخيمة و

(الإسكندرية - السويس - الجيزة - بورسعيد)

٤- دير مصرى يعد من أقدم الأديرة ويوجد جنوب سيناء

(سانت كاترين - القديسين - مارجرجس - الشهداء)

٥- من أشهر المراكب فى مصر القديمة مركب

(زوسر - خوفو - خفرع - منكاورع)

(ب) أيد صحة العبارة التالية:

- تعد شبه جزيرة سيناء من مناطق الجذب السياحى.

السؤال الثالث

(أ) أكمل العبارات الآتية:

- ١- توجد الأهرامات الثلاثة في محافظة
- ٢- زيارة معرض القاهرة الدولي للكتاب تعد سياحة
- ٣- إذا أردت معرفة الحضارة المصرية على مر العصور، فيمكنك زيارة المتحف
- ٤- عدم قدرة الفرد على تشغيل الأجهزة الإلكترونية يعد أمية

(ب) أمامك قائمة لبعض الأماكن السياحية في مصر. صنفها حسب نوع السياحة التي تنتمي إليها:

(مهرجان الإسماعيلية - رحلات السفاري - شارع المعز - العيون الكبرى)

سياحة ثقافية	سياحة ترفيهية	سياحة علاجية	سياحة المؤتمرات والمهرجانات

السؤال الرابع

(أ) اكتب كلمة (صواب) أمام العبارة الصحيحة، وكلمة (خطأ) أمام العبارة غير الصحيحة فيما يلي:

- ١- تسعى الإدارة العامة للمرور لتعريف التلاميذ بقواعد وإشارات المرور. ()
- ٢- نشر الشائعات من السلوكيات الإيجابية لمواقع التواصل. ()
- ٣- استضافت مصر المؤتمر العربي للحد من الكوارث. ()
- ٤- تسعى مصر إلى إقامة مشروعات لتحقيق حياة كريمة لكل المصريين. ()
- ٥- الإسكندرية ودمياط من موانئ مصر على ساحل البحر الأحمر. ()

(ب) ماذا كان يحدث إذا...؟

- لم تهتم الدولة بتطوير الطرق.



السؤال الأول

(١) أمامك خريطة صماء لمصر، ادرسها ثم اكتب ما تشير إليه الأرقام الآتية:



- ١- واحة تنتشر بها السياحة العلاجية
- ٢- البحر
- ٣- محمية
- ٤- الصحراء

(ب) فسر بذكر سبب :

١- تهتم الدولة بإنشاء الكبارى والمحاور.

٢- تطوير الدولة لمنطقة الأهرامات.

السؤال الثانى

(١) أكمل العبارات الآتية:

- ١- يتولى رئيس الجمهورية الرئاسة عن طريق
- ٢- تتميز محافظة جنوب سيناء ب..... سطحها.
- ٣- الإشراف على تنفيذ المشروعات داخل المحافظة من مهام
- ٤- تقليل عدد الأطفال فى الأسرة الواحدة هو
- ٥- تستخدم السيارات والأتوبيسات فى نقل

(ب) أذكر :

- أهمية واحدة للتعداد السكانى.

السؤال الثالث

(١) اختر الإجابة الصحيحة مما بين القوسين:

١- وسيلة من وسائل المواصلات تسير على الطرق المرصوفة

(القطارات - الطائرات - مترو الأنفاق - الشاحنات)

- ٢- من مبادرات الدولة لتطوير الريف المصرى مبادرة
- (حياة كريمة - اتحضر للأخضر - التطوير العمرانى - ١٠٠ مليون صحة)
- ٣- محمية تقع عند التقاء خليجى السويس والعقبة
- (وادى الريان - الغابات المتحجرة - رأس محمد - وادى دجلة)
- ٤- يساعد تنوع سكان مصر فى تحقيق بين السكان.
- (التداخل - التكامل - الشمول - التباين)

(ب) ماذا يحدث إذا ...؟

- ١- توفرت موارد المياه فى محافظة جنوب سيناء.
-
- ٢- لم تكن القاهرة عاصمة لمصر.
-


السؤال الرابع

(١) اكتب كلمة (صواب) أمام العبارة الصحيحة، وكلمة (خطأ) أمام العبارة غير الصحيحة فيما يلى:

- ١- توفر المؤسسات الحكومية الخدمات الإلكترونية للمواطنين. ()
- ٢- ساهمت منظمة «الفاو» فى إنقاذ معبدى أبو سمبل من الغرق. ()
- ٣- تنظيم الأسرة يعنى زيادة عدد السكان مقارنة بالموارد المتاحة. ()
- ٤- محافظة جنوب سيناء أقل محافظات مصر سكاناً. ()
- ٥- جلوس الأطفال فى المقاعد الأمامية من آداب استخدام وسائل النقل. ()

(ب) حدد اثنتين من:

- قواعد قيادة السيارات.
-



(أ) أمامك خريطة صماء لمصر، ادرسها ثم اكتب ما تشير إليه الأرقام الآتية:



١- أعلى محافظات مصر سكاناً

٢- البحر

٣- خليج تطل عليه قلعة صلاح الدين

٤- محافظة بها منطقة وادي الحيطان

(ب) فسر العبارات الآتية:

١- أهمية التراث المصري.

٢- إنشاء صلاح الدين قلعة في مدينة طابا.

(أ) صوب ما تحته خط:

١- مصر أول دولة عربية إفريقية أقامت طرقاً مرصوفة. (.....)

٢- استخدم الإنسان قديماً الصقر لسرعته في إرسال الرسائل. (.....)

٣- تقل نسبة الأمية بالريف في مصر. (.....)

٤- منطقة وادي الحيطان تقع بمحافظة الغربية. (.....)

٥- من شروط أى مشروع قانون جديد موافقة نصف أعضاء مجلس النواب. (.....)

(ب) ما النتائج المترتبة على ...؟

- اهتمام الدولة بتطوير الموانئ.

السؤال الثالث

(أ) اختر الإجابة الصحيحة مما بين القوسين:

- ١- عثر على مركب خوفو في الجهة للهرم.
(الشمالية - الجنوبية - الشرقية - الغربية)
- ٢- المسئول عن إدارة شئون المحافظة هو
(الوزير - الملك - الرئيس - المحافظ)
- ٣- صنفت منظمة «اليونسكو» منطقة منطقة مهددة بخطر تآكل التربة والمباني.
(حلوان - أبو مينا - أبورواش - قليوب)
- ٤- إحدى إيجابيات شبكة الإنترنت
(نشر الشائعات - الجولات الافتراضية - إضاعة الوقت - إهمال الهوايات)

(ب) قارن بين: مهام رئيس الجمهورية ورئيس الوزراء من خلال الجدول التالي:

رئيس الوزراء	رئيس الجمهورية


السؤال الرابع

(أ) أكمل العبارات التالية بكلمات مناسبة:

- ١- تعد من وسائل التواصل في عصور ما قبل التاريخ.
- ٢- محافظة يمثل سكانها نسبة ضئيلة جداً من سكان مصر.....
- ٣- تم بناء جامع عمرو بن العاص في عهد الخليفة.....
- ٤- الدولة تتجه لتسكين البدو للعمل في.....
- ٥- أصبح العالم قرية صغيرة بعد اختراع الإنسان ل.....

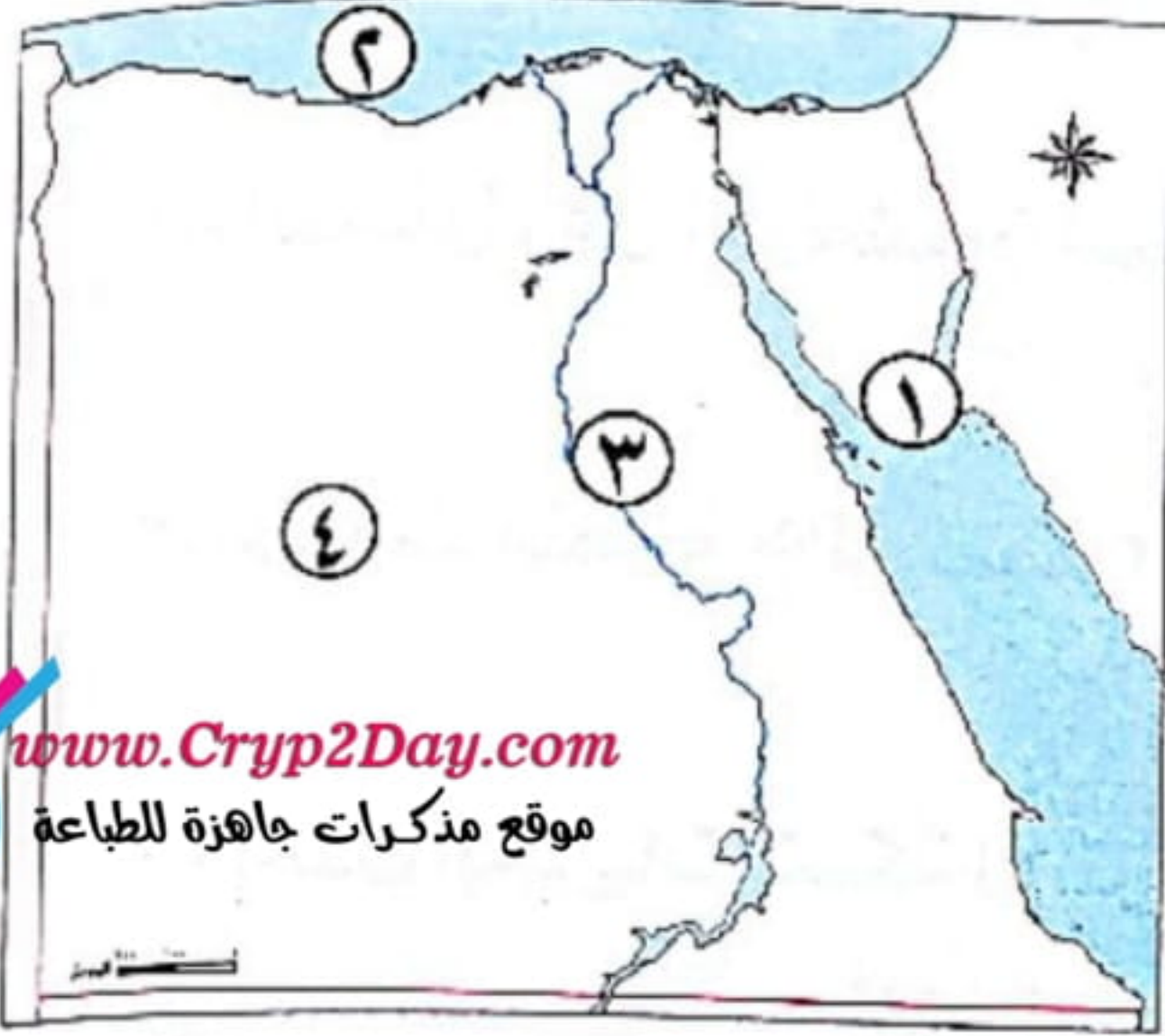
(ب) حدد اثنين من:

- آداب استخدام وسائل النقل العامة.



السؤال الأول

(أ) أمامك خريطة صماء لمصر، ادرسها ثم اختر ما تشير إليه الأرقام مما بين القوسين:



١- يشير رقم (١) إلى محمية

(وادي دجلة - رأس محمد - الصحراء البيضاء -
الغابات المتحجرة)

٢- يشير رقم (٢) إلى

(البحر المتوسط - البحر الأحمر - قناة السويس -
نهر النيل)

٣- يشير رقم (٣) إلى

(قناة السويس - نهر النيل - البحر المتوسط - البحر الأحمر)

٤- يشير رقم (٤) إلى

(الصحراء الشرقية - دلتا النيل - الصحراء الغربية - وادي النيل)

(ب) اذكر اثنين من:

١- جهود الدولة لتنمية السياحة في مصر.

٢- جهود الدولة في القضاء على الأمية.

السؤال الثاني

(أ) أكمل العبارات الآتية:

١- النقل النهري يستخدم في نقل المواد الخام اللازمة ل.....

٢- الملكة حتشبسوت أرسلت رحلات تجارية إلى بلاد.....

٣- السيارات ظهرت في مصر في عهد الخديو.....

٤- عدم قدرة الفرد على تشغيل الأجهزة الإلكترونية يعد أمية.....

٥- الهدف من تطوير منطقة الأهرامات تحويلها إلى.....

(ب) حدد اثنين من:

- جهود الدولة لتنظيم حركة المرور.

السؤال الثالث

(أ) اختر الإجابة الصحيحة مما بين القوسين:

- ١- العربة التي تجرها الخيول ظهرت في مصر القديمة بعد غزو.....
(الروم - الهكسوس - الفرس - الإنجليز)
- ٢- الوزير المسئول عن توفير رعاية صحية جيدة للمصريين هو وزير.....
(العدل - الصحة - التعليم - المالية)
- ٣- قامت الدولة بترميم مسجد أحمد بن طولون الذي يقع في.....
(الإسكندرية - القاهرة - القليوبية - البحيرة)
- ٤- مطار برج العرب من المطارات الدولية التي تقع في.....
(دمياط - الإسماعيلية - الإسكندرية - السويس)

(ب) قارن بين جهود الدولة في (الحفاظ على الآثار المصرية وتنمية السياحة في مصر):

جهودها في الحفاظ على الآثار	جهودها في تنمية السياحة


السؤال الرابع

(أ) اكتب كلمة (صواب) أمام العبارة الصحيحة، وكلمة (خطأ) أمام العبارة غير الصحيحة فيما يلي:

- ١- أصدرت الدولة قانون المرور لتنظيم حركة المرور. ()
- ٢- السكك الحديدية تقتصر على نقل الركاب فقط. ()
- ٣- تستقبل المناطق الأثرية العديد من السياح. ()
- ٤- مصر القديمة كانت مقسمة إلى ٤٢ محافظة. ()
- ٥- ترتفع معدلات الأمية بين الإناث في مصر. ()

(ب) ما العلاقة بين...؟

- المشكلات الاجتماعية وأمن المجتمع.



السؤال الأول

(أ) أمامك خريطة صماء لمصر، اكتب ما تشير إليه الأرقام:



www.Cryp2Day.com
موقع مذكرات جاهزة للطباعة

- ١- يشير رقم (١) إلى محافظة تطل بها الأمية
- ٢- يشير رقم (٢) إلى أقدم الأديرة المصرية
- ٣- يشير رقم (٣) إلى البحر
- ٤- يشير رقم (٤) إلى نهر

(ب) أثبت صحة العبارتين الآتيتين:

١- تزخر مصر بمواقع عديدة للتراث الثقافى.

٢- تساهم منظمة «اليونسكو» فى ترميم المدن القديمة.

السؤال الثانى

(أ) اختر الإجابة الصحيحة مما بين القوسين:

- ١- تواصل الإنسان فى عصور ما قبل معرفة الكتابة عن طريق
- (الدخان - الحمام الزاجل - البريد - الإنترنت)
- ٢- من وسائل النقل المائى ولم تكن موجودة قديماً
- (القوارب - السفن - الغواصات - المراكب)
- ٣- من عيوب النقل الجوى
- (سرعة انتشاره - ارتفاع تكلفته - رخص تكلفته - بطء حركته)
- ٤- منطقة أثرية تقع فى محافظة الإسكندرية ومدرجة ضمن قائمة التراث العالمى لليونسكو
- (سانت كاترين - أبومينا - وادى الحيتان - معبد إيزيس)
- ٥- من أمثلة المشكلات الاجتماعية فى مصر مشكلة
- (البطالة - التعليم - الصحة - التنمية)

(ب) اذكر نتيجتين لـ:

- انتشار البطالة فى مصر.

السؤال الثالث

(أ) أكمل العبارات الآتية:

- ١- تسعى مصر إلى إقامة العديد من المشروعات لتحقيق الحياة للسكان.
- ٢- الإدارات المركزية في مصر القديمة يقابلها حاليًا
- ٣- المهندس الذي قام بتصميم برج القاهرة هو
- ٤- منطقة يزورها السياح للعلاج بالمياه الكبريتية

(ب) قارن بين التراث الثقافي والتراث الطبيعي من حيث (التعريف - الأمثلة).

التراث الطبيعي	التراث الثقافي	وجه المقارنة
		التعريف
		الأمثلة

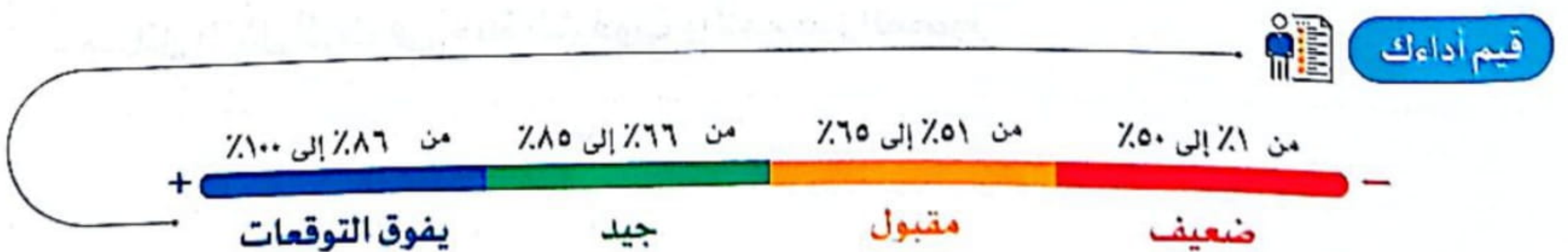
السؤال الرابع

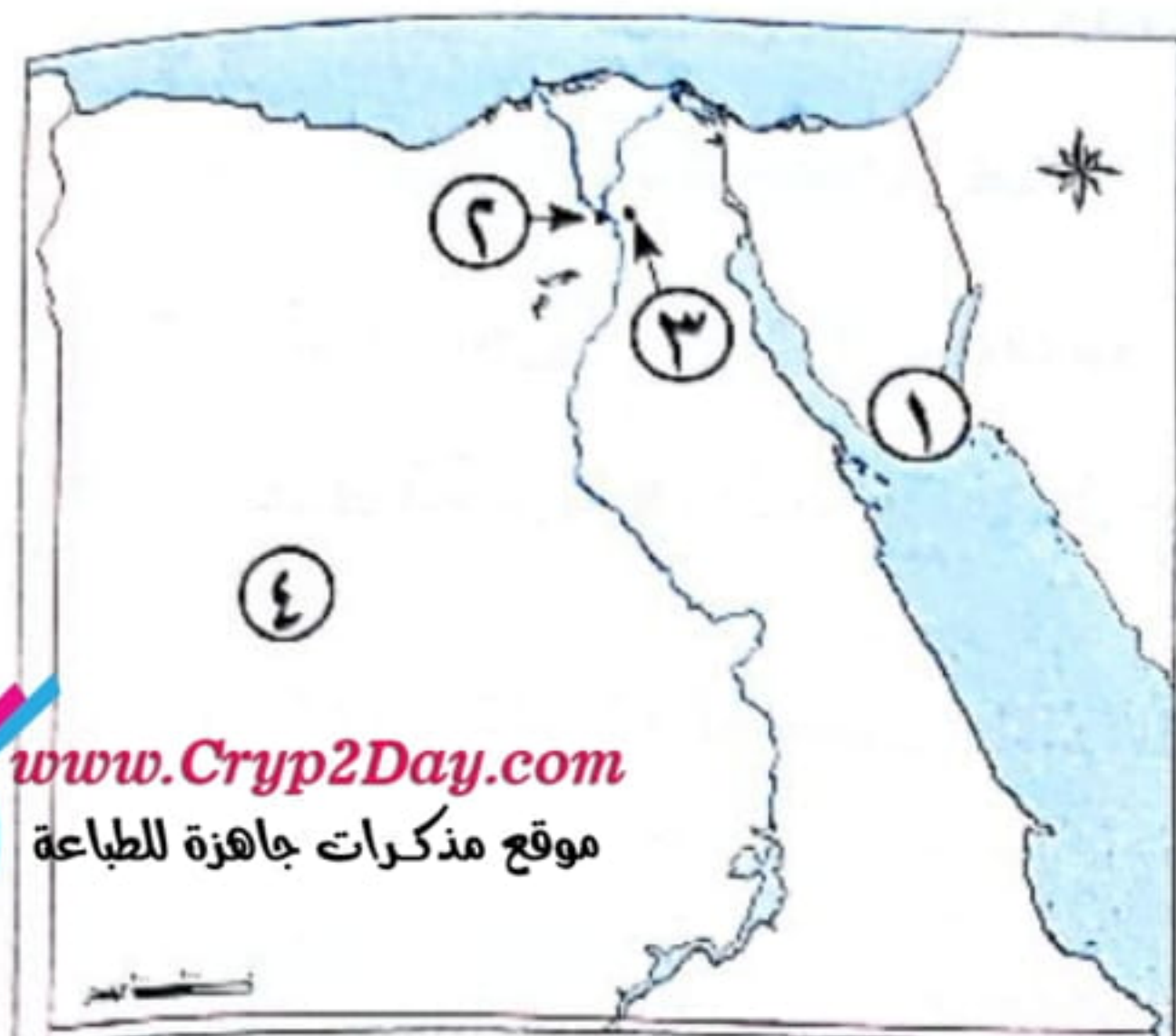
(أ) اكتب كلمة (صواب) أمام العبارة الصحيحة، وكلمة (خطأ) أمام العبارة غير الصحيحة فيما يلي:

- ١- تبذل الدولة جهودًا كبيرة لتنظيم حركة المرور في الشوارع. ()
- ٢- مترو الأنفاق يربط بين أربع مدن مصرية. ()
- ٣- مصر أول دولة على مستوى العالم في إنشاء السكك الحديدية. ()
- ٤- اخترع الإنسان التلغراف في القرن السابع عشر. ()
- ٥- من قواعد المشاة العبور من المكان المخصص لعبور المشاة. ()

(ب) اذكر سببًا:

- استخدام الإنسان الحمام الزاجل في العصور القديمة.





(أ) أمامك خريطة صماء لمصر، اكتب ما تشير إليه الأرقام:

- ١- يشير رقم (١) إلى مدينة سياحية
- ٢- يشير رقم (٢) إلى محافظة بها الأهرامات
- ٣- يشير رقم (٣) إلى محافظة بها مجمع الأديان
- ٤- يشير رقم (٤) إلى الصحراء

(ب) وضع العلاقة بين:

١- اختراع الكتابة ومعرفة الحضارة المصرية القديمة.

٢- وسائل النقل والتكنولوجيا.

(أ) اختر الإجابة الصحيحة مما يلي:

- ١- زيارة شارع خان الخليلي تعد سياحة (ترفيهية - ثقافية - علاجية - مؤتمرات)
- ٢- سوء أوضاع المجتمع وانتشار معدلات الجريمة كل ذلك نتيجة لانتشار (السياحة - الصناعة - المشروعات - البطالة)
- ٣- يذهب السياح للعلاج بالرمال الساخنة في مصر إلى واحة (الغرافرة - سيوة - الداخلة - الخارجة)
- ٤- أي من التالي يعد من معوقات خطط التنمية في مصر؟ (بناء المستشفيات - بناء المدارس - مشكلة الأمية - إقامة المشروعات)
- ٥- يقابل رئيس الإدارة المركزية في عهد المصريين القدماء حالياً. (رئيس الجمهورية - رئيس الوزراء - مجلس النواب - القضاء)

(ب) دلل:

- وسائل النقل أثرت في حياة الشعوب والأمم عبر العصور.

السؤال الثالث

(أ) أكمل العبارات الآتية بما يناسبها من كلمات:

- ١- السلطة المستقلة التي تتولاها المحاكم وتصدر الأحكام هي
- ٢- الأعمال التطوعية لخدمة البيئة يقوم بها
- ٣- ميناء الغردقة يقع على ساحل البحر
- ٤- أول خط هاتف في مصر ربط بين القاهرة و

(ب) قارن بين:

- الإقليم في مصر قديماً والمحافظه حالياً من حيث: عددهم، المسئول عنهم، مهام المسئول عنهم.

وجه المقارنة	الإقليم في مصر قديماً	المحافظة حالياً
العدد		
المسئول		
المهام		


السؤال الرابع

(أ) ضع علامة (✓) أمام العبارة الصحيحة، وعلامة (X) أمام العبارة غير الصحيحة فيما يلي:

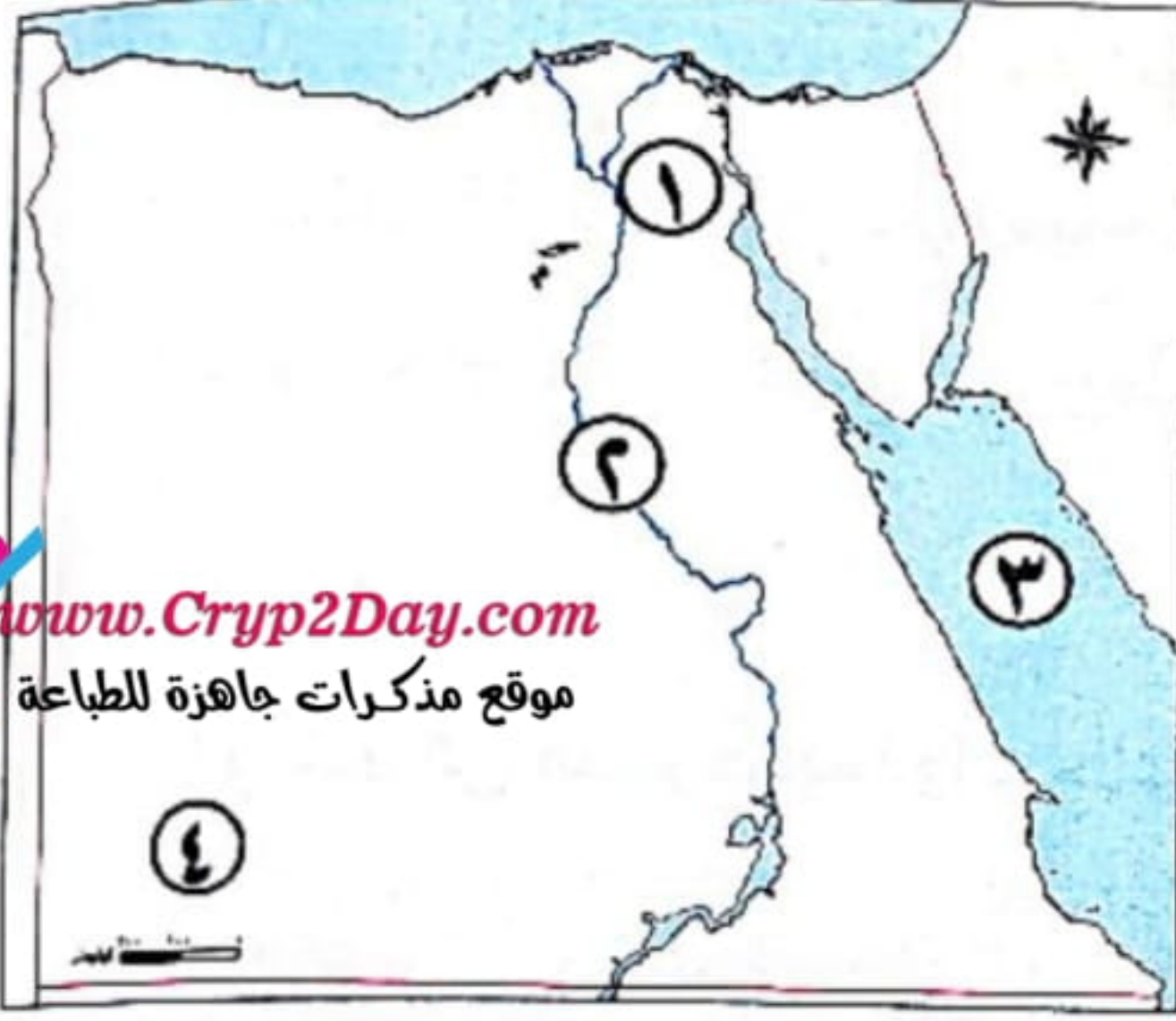
- ١- الدولة تسعى للتوسع في استخدام النقل المستدام. ()
- ٢- جلوس الأطفال في المقاعد الأمامية من آداب استخدام وسائل النقل. ()
- ٣- تقل أعداد العمال والفلاحين عن نصف إجمالي عدد مقاعد المجالس المحلية. ()
- ٤- السياحة العلاجية تهدف للحفاظ على البيئة. ()
- ٥- تقديم العروض الفنية العالمية في دار الأوبرا يعد سياحة ثقافية. ()

(ب) أيد صحة العبارة التالية:

- تعد شبه جزيرة سيناء من مناطق الجذب السياحي.



(أ) أمامك خريطة صماء لمصر، ادرسها ثم اختر ما تشير إليه الأرقام مما بين القوسين:



١- يشير رقم (١) إلى محافظة

(الجيزة - القاهرة - الغربية - الشرقية)

٢- يشير رقم (٢) إلى

(قناة السويس - البحر الأحمر - نهر النيل - البحر

المتوسط)

٣- يشير رقم (٣) إلى

(البحر الأحمر - نهر النيل - قناة السويس - البحر المتوسط)

٤- يشير رقم (٤) إلى (الصحراء الغربية - الصحراء الشرقية - قناة السويس - البحر المتوسط)

(ب) حدد أوجه الاختلاف بين مهام رئيس الوزراء ومهام الوزراء:

..... مهام رئيس الوزراء:

..... مهام الوزراء:

السؤال الثاني

(أ) صوب ما تحته خط:

١- أنواع السياحة في مصر محدودة. (.....)

٢- النقل الجوي أرخص وسائل النقل. (.....)

٣- رحلات الملك زوسر التجارية كانت لبلاد فينيقيا. (.....)

٤- تقل نسبة الأمية في الريف في مصر. (.....)

٥- اعتمدت الثورة الصناعية على طاقة الشمس. (.....)

(ب) فسر بذكر سبب:

- تسعى الدولة للتحويل نحو استخدام النقل المستدام.

السؤال الثالث

(أ) اختر الإجابة الصحيحة مما بين الأقواس:

- ١- محافظة يزيد فيها عدد السكان على ٨ ملايين نسمة.....
- (القاهرة - أسيوط - أسوان - الشرقية)
- ٢- توجد الثعالب البرية والغزلان في مصرفى محمية وادى..... بالفيوم.
- (الألوان - دجلة - الريان - حوف)
- ٣- النقل البحرى فى مصر يتم عن طريق.....
- (قناة السويس - نهر النيل - الطرق المرصوفة - السكك الحديدية)
- ٤- سوء أوضاع المجتمع وانتشار معدلات الجريمة كل ذلك نتيجة لانتشار.....
- (السياحة - الصناعة - المشروعات - البطالة)

(ب) قارن بين وسائل التواصل فى عصور ما قبل التاريخ والعصور التاريخية:

عصور ما قبل التاريخ	العصور التاريخية

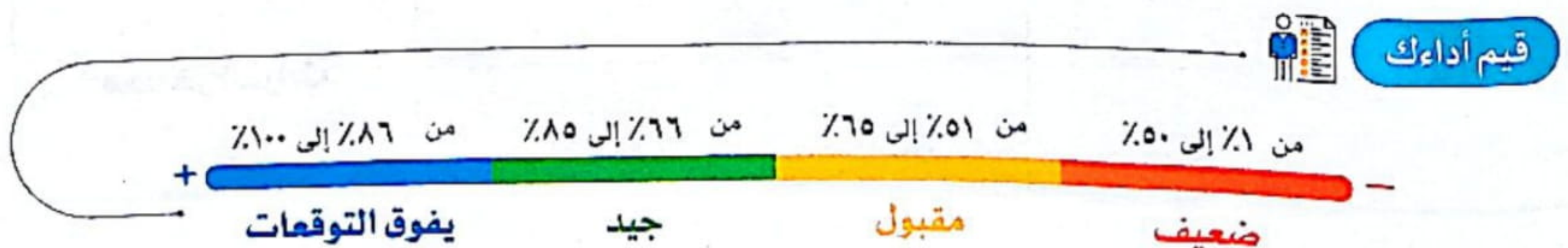
السؤال الرابع

(أ) أكمل العبارات الآتية:

- ١- منطقة وادى الحيطان من أهم معالم محافظة.....
- ٢- يتم إجراء عملية حصر شامل للسكان فى مصر كل..... سنوات.
- ٣- تؤثر مظاهر السطح على توزيع.....
- ٤- النقل البرى يشمل..... و.....
- ٥- أول خط هاتف فى مصر ربط بين القاهرة و.....

(ب) برهن على صحة العبارة التالية:

- تتعدد أنواع السياحة فى مصر.



النموذج العاشر

مجاب عليه

السؤال الأول

(أ) أمامك خريطة صماء لمصر، اكتب ما تشير إليه الأرقام:

- ١- يشير رقم (١) إلى أقدم الأديرة المصرية
- ٢- يشير رقم (٢) إلى محمية
- ٣- يشير رقم (٣) إلى نهر
- ٤- يشير رقم (٤) إلى الصحراء

(ب) اذكر سبباً لكل من:

١- أهمية التكنولوجيا لأصحاب الهمم.

٢- تسعى الدولة للتحول نحو استخدام النقل المستدام.

السؤال الثاني

(أ) ضع علامة (✓) أمام العبارة الصحيحة، وعلامة (X) أمام العبارة غير الصحيحة فيما يلي:

- ١- منظمة الأمم المتحدة المسئولة عن التربية والعلوم والثقافة هي منظمة اليونسكو. ()
- ٢- قام المصريون القدماء بنقش مظاهر احتفالاتهم على جدران المعابد. ()
- ٣- استخدم الإنسان الحمام الزاجل قديماً في إرسال الرسائل لسرعته. ()
- ٤- تم وضع علامات ضوئية على شكل إنسان لتنظيم عبور المشاة. ()
- ٥- توجد محمية وادي الريان عند التقاء خليجي السويس والعقبة. ()

(ب) قارن بين:

- سكان أهل بورسعيد وسكان أهل النوبة من حيث «مظاهر التراث التي تنتشر بين سكانهما»:

وجه المقارنة	سكان أهل بورسعيد	سكان أهل النوبة
مظاهر التراث		

السؤال الثالث

(أ) اختر الإجابة الصحيحة مما بين القوسين:

- ١- كان المصري القديم يخصص اليوم الأول من الاحتفالات للذهاب إلى
(نهر النيل - معابد الآلهة - قصر الفرعون - أماكن المحاصيل)
- ٢- تعد محافظة أكثر المحافظات المصرية التي تنتشر بها الأمية.
(البحيرة - دمياط - المنيا - الشرقية)
- ٣- استخدم حديثاً لتسهيل العمل دون انتقال
(التلغراف - البريد - الإنترنت - المكتب)
- ٤- أول محاولة للطيران قام بها
(الحسن بن الهيثم - جابر بن حيان - بن سينا - عباس بن فرناس)

(ب) ماذا كان يحدث إذا...؟

- ١- لم يخترع الإنسان الإنترنت.

- ٢- لم تظهر قوة البخار.

السؤال الرابع

(أ) أكمل العبارات الآتية:

- ١- أصبح العالم قرية صغيرة بعد اختراع الإنسان ل.....
- ٢- كانت السفن في عهد المصريين القدماء تستخدم في التجارة و.....
- ٣- مدينة تاريخية وتعد من أكبر المدن التراثية في العالم.....
- ٤- الأمية تقلل من فرص الحصول على.....
- ٥- رئيس الجمهورية ورئيس الوزراء ومجلس الوزراء يمثلون.....

(ب) فسر:

- أهمية اتباع قواعد المرور.



الإجابات النموذجية



(ب) لحماية الطرق البرية والبحرية المصرية - تأمين خليج العقبة والبحر الأحمر من الأعداء.

- ٢ (١) ١- الثقافية ٢- القاهرة ٣- أحمد بن طولون
٤- بورسعيد ٥- أمنحتب الثالث

- ٣ (١) ١- الفيوم ٢- للتعيش العامة والإحصاء
٣- حورس ٤- السياحة

(ب) السياح يأتون إلى مصر لأغراض متعددة مثل: التنزه والترفيه والعلاج وزيارة الأماكن التاريخية أو حضور المؤتمرات والمهرجانات.

(النموذج الثالث)

- ١ (١) ١- سيوة ٢- الفيوم ٣- البحر الأحمر ٤- قنا
(ب) تضم منظمة اليونسكو الظواهر الطبيعية التي لا مثيل لها لقائمة التراث العالمي.

- ٢ (١) ١- جنوب ٢- لليونسكو ٣- السمسمية
٤- وادي الحيتان ٥- برج القاهرة

(١) ٣

وجه المقارنة	سكان الريف	سكان الحضر
أماكن سكنهم	يسكنون القرى	يسكنون المدن.
المهن	الزراعة وتربية الحيوانات.	الصناعة والتجارة والسياحة والخدمات (التعليمية، الصحية، المصرفية)

(ب) للتمتع بالمناظر الخلابة والشعاب المرجانية في البحر الأحمر.

إجابة النماذج الاسترشادية لشهر مايو (النموذج الأول)

- ١ (١) ١- الصحراء الغربية ٢- وادي النيل
٣- الفيوم ٤- قناة السويس

(ب) ١- لنقل الركاب والاحتفالات والتجارة.
٢- لأنه يعد أرخص وسائل النقل ويستخدم في نقل البضائع كبيرة الحجم وثقيلة الوزن.

- ٢ (١) ١- (خطأ) ٢- (صواب) ٣- (صواب)
٤- (خطأ) ٥- (خطأ)

(ب) تحديد الخدمات التي يحتاجها السكان في الحاضر والمستقبل.

(١) ٣

تراث ثقافي	تراث طبيعي
سور مجرى العيون	محمية وادي الريان
قلعة صلاح الدين	محمية رأس محمد

- (ب) ١- الزراعة ٢- التعليم / الصحة / البنية الأساسية
٣- المناظر الطبيعية المميزة ٤- سته

- ٤ (١) ١- الدواب ٢- الطبيعي ٣- الصعيد
٤- أسوان ٥- المنيا

(ب) - إنشاء الهيئة العامة لتعليم الكبار ومحو الأمية عام ١٩٩٢ م.
- إنشاء العديد من المدارس للاستيعاب الكامل للأطفال ومواجهة التسرب.
- إطلاق العديد من المبادرات المجتمعية للمشاركة في تنفيذ برامج محو الأمية
- رفع الوعي المجتمعي بأهمية التعليم من خلال وسائل الإعلام المختلفة.

(النموذج الثاني)

- ١ (١) ١- السويس ٢- الإسكندرية
٣- النيل ٤- الشرقية

إجابة النماذج الاسترشادية لشهر مارس (النموذج الأول)

- ١ (١) ١- القاهرة ٢- البحر الأحمر ٣- سيوة ٤- جنوب سيناء
(ب) المحافظة على الممتلكات العامة في المحافظة - المشاركة في الأعمال التطوعية لخدمة البيئة التي يعيش فيها - يهتم بالتعليم وإتقان العمل.

- ٢ (١) ١- المجلس المحلي ٢- النوبة ٣- مجلس النواب
٤- اليونسكو ٥- عشر

- ٣ (١) ١- (✓) ٢- (X) ٣- (✓)
٤- (✓) ٥- (✓)

(النموذج الثاني)

- ١ (١) ١- جنوب سيناء ٢- المنيا
٣- السويس ٤- البحر المتوسط

(ب) تقلل الأمية من فرص الحصول على عمل مما يؤدي إلى انتشار البطالة والفقر - انتشار الجهل والخرافات بين الناس - تؤثر سلباً في برامج التنمية المستدامة في المجتمعات وتؤدي إلى تدني اقتصادها القومي.

- ٢ (١) ١- (صواب) ٢- (خطأ) ٣- (صواب)
٤- (صواب) ٥- (خطأ)

(١) ٣

المحافظ	المجلس المحلي
- متابعة جودة المرافق والخدمات العامة كالتعليم.	- معاونة المحافظ في إدارة شئون المحافظة.
- توفير فرص العمل لأبناء المحافظة.	- يعملون على متابعة تنفيذ خطط التنمية في المحافظة.

(ب) بسبب صعوبة مظاهر السطح - ندرة المياه بها

(النموذج الثالث)

- ١ (١) ١- الجيزة ٢- الصعيد
٣- الأحمر ٤- الوادي الجديد

(ب) القضاء على الأمية الهجائية عند الكبار

- ٢ (١) ١- (✓) ٢- (X) ٣- (X)
٤- (✓) ٥- (✓)

- ٣ (١) ١- العشوائيات ٢- الصعيد ٣- الأمية
٤- الفرعون ٥- رئيس الجمهورية

إجابة النماذج الاسترشادية لشهر إبريل (النموذج الأول)

- ١ (١) ١- رأس محمد ٢- بورسعيد
٣- (أبو مينا) بالإسكندرية ٤- القاهرة
(ب) أشارت المادة ١٨٠ في الدستور المصري لعام ٢٠١٤م إلى تخصيص ربع عدد المقاعد في المجالس المحلية للمرأة.

- ٢ (١) ١- السليبية ٢- الروماني ٣- الريف
٤- جنوب سيناء ٥- الإناث

- ٣ (١) ١- (✓) ٢- (X) ٣- (X)
٤- (✓) ٥- (✓)

(النموذج الثاني)

- ١ (١) ١- الجيزة ٢- شرم الشيخ
٣- العقبة ٤- النيل

(النموذج الرابع)

- ١ (١) -١ سيوة ٢- الأحمر
٣- رأس محمد ٤- الغربية
(ب) -١ لتخفيف الضغط المروري على الطرق وتقليل الحوادث وتقليل المسافات
وخفض زمن الرحلة
٢- لاسترجاع الصورة التاريخية للمنطقة وتعظيم قيمتها الأثرية.

- ٢ (١) -١ الانتخاب ٢- صعوبة مظاهر ٣- المحافظ
٤- تنظيم الأسرة ٥- الركاب
(ب) لتحديد الخدمات التي يحتاجها السكان في الحاضر والمستقبل.

- ٣ (١) -١ الشاحنات ٢- حياة كريمة
٣- رأس محمد ٤- التكامل
(ب) -١ زيادة عدد السكان في محافظة جنوب سيناء، ولن تصبح أقل
محافظات مصر سكاناً.
٢- لم تصبح أكثر محافظات مصر سكاناً.

- ٤ (١) -١ (صواب) ٢- (خطأ) ٣- (خطأ)
٤- (صواب) ٥- (خطأ)
(ب) - تحرك سائق السيارة في مساره المحدد على الطريق
- عدم تجاوز السرعة المحددة

(النموذج الخامس)

- ١ (١) -١ القاهرة ٢- الأحمر
٣- العقبة ٤- الفيوم
(ب) -١ ساهم في تنشيط السياحة - توفير فرص عمل للشباب - زيادة الدخل القومي.
٢- حماية الطرق البرية والبحرية المصرية - تأمين خليج العقبة والبحر
الأحمر من الأعداء.

- ٢ (١) -١ سكك حديدية ٢- الحمام الزاجل ٣- بالحضر
٤- الفيوم ٥- ثلث
(ب) - تقليل زمن انتظار السفن خارج الميناء.
- زيادة كمية البضائع المتداولة وزيادة أحجام السفن.
- زيادة مساحات التخزين داخل الميناء.
- تنشيط حركة التجارة.

- ٣ (١) -١ الجنوبية ٢- المحافظ
٣- أبو مينا ٤- الجولات الافتراضية
(ب)

مهام رئيس الوزراء	مهام رئيس الجمهورية
- يرأس الحكومة ويشرف على أعمالها.	- مسئول عن أمن الوطن ورعاية مصالح الشعب.
	- يمثل مصر محلياً ودولياً.

- ٤ (١) -١ قرع الطبول ٢- جنوب سيناء ٣- عمر بن الخطاب
٤- الزراعة والتعدين ٥- شبكة الإنترنت
(ب) - التخلي عن المقاعد لكبار السن أو المرضى أو النساء الحوامل وذوي
الاحتياجات الخاصة
- عدم جلوس الأطفال في المقاعد الأمامية للسيارة أو إخراج أجسادهم
من النوافذ

(النموذج السادس)

- ١ (١) -١ رأس محمد - البحر المتوسط
٢- نهر النيل - الصحراء الغربية
(ب) -١ إنشاء وتطوير المنشآت السياحية مثل القرى والفنادق.
- صيانة المناطق الأثرية وترميمها.
٢- إنشاء العديد من المدارس - إنشاء الهيئة العامة لتعليم الكبار.

- (ب) -١ قضاء كثير من الوقت على شبكات التواصل الاجتماعي مما يؤثر على
مستقبلك الدراسي.
- إهمال ممارسة الهوايات التي تساعد على بناء إنسان سليم نفسياً وصحياً.
- التباعد بينك وبين أفراد أسرتك.
- وجود معلومات غير صحيحة على شبكة الإنترنت لذلك يجب التأكد
من صدق المعلومات قبل نشرها.
٢- يتولى مسئولية حفظ الأمن والنظام في المحافظة - يشرف على تنفيذ
المشروعات التنموية في المحافظة - حماية حقوق الإنسان والممتلكات
العامة والخاصة - توفير فرص العمل لأبنائها - متابعة جودة المرافق
والخدمات العامة؛ كالعليم، والصحة والكهرباء، والمياه النظيفة -
يعمل على زيادة إنتاج المحافظة في كافة المجالات.

- ٢ (١) -١ الوزير ٢- سلبى ٣- الأمية
٤- المدونات ٥- ست

- (ب) تقلل الأمية من فرص الحصول على عمل مما يؤدي إلى انتشار البطالة
والفقر - انتشار الجهل والخرافات بين الناس - تؤثر سلباً في برامج التنمية
المستدامة في المجتمعات وتؤدي إلى تدني اقتصادها القومي.

- ٣ (١) -١ القاهرة ٢- فيلة
٣- القاهرة والجيزة ٤- السياحة
(ب)

وجه المقارنة	سكان الحضر	سكان الريف
الأنشطة	الصناعة والتجارة والسياحة والخدمات (التعليمية، الصحية، المصرفية)	الزراعة وتربية الحيوانات.
المشكلة	هجرة سكان الريف إلى المدن	يزداد متوسط حجم الأسر في الريف عن الحضر

- ٤ (١) -١ (خطأ) ٢- (صواب) ٣- (صواب)
٤- (صواب) ٥- (خطأ)
(ب) - لإرسال الرسائل لأنه سريع.

(النموذج الثالث)

- ١ (١) -١ البحر الأحمر ٢- السويس
٣- المتوسط ٤- النيل
(ب) -١ شركة مصر للطيران إحدى شركات بنك مصر.
٢- البطالة من المشكلات التي تهدد أمن واستقرار المجتمع وتزيد من
معدلات الجريمة.

- ٢ (١) -١ الإسكندرية ٢- السابع ٣- الجيزة
٤- سانت كاترين ٥- خوفو
(ب) حيث ينظم سباق الهجن وهو رياضة تراثية تشتهر بها سيناء، وتسهم في
تنشيط السياحة، حيث يحضرها العديد من الوفود العربية للمشاركة في
السباق.

- ٣ (١) -١ الجيزة ٢- المؤتمرات والمعارض
٣- القومي للحضارة المصرية
٤- معلوماتية (التكنولوجية)
(ب)

سياحة ثقافية	سياحة ترفيهية	سياحة علاجية	سياحة المؤتمرات والمهرجانات
شارع المعز	رحلات السفاري	العيون الكبريتية	مهرجان الإسماعيلية

- ٤ (١) -١ (صواب) ٢- (خطأ) ٣- (صواب)
٤- (صواب) ٥- (خطأ)
(ب) لم يتم تخفيف الضغط المروري على الطرق وتزيد الحوادث والمسافات
وزمن الرحلة.

- ٢ (١) ١- ثقافية ٢- البطالة ٣- سيوة
٤- مشكلة الأمية ٥- رئيس الوزراء
(ب) حيث: وفرت وسائل النقل الوقت والجهد لانتقال الأفراد والسلع من مكان لآخر - وساعدت على التبادل التجاري والتواصل الحضارى بين الدول.

- ٣ (١) ١- السلطة القضائية ٢- المواطن
٣- البحر الأحمر ٤- الإسكندرية
(ب)

وجه المقارنة	الإقليم في مصر قديمًا	المحافظة حاليًا
العدد	٤٢ إقليمًا	٢٧ محافظة
المستول	حاكم الإقليم	المحافظ
المهام	- يهتم بشئون الإقليم. - المحافظة على أمن الإقليم. - يشرف على تنفيذ المشروعات في الإقليم.	- يتولى مسئولية حفظ الأمن والنظام. - يشرف على تنفيذ المشروعات التنموية في المحافظة. - حماية حقوق الإنسان والممتلكات العامة والخاصة. - توفير فرص العمل لأبنائها. - متابعة جودة المرافق والخدمات العامة؛ كالتعليم، والصحة والكهرباء، والمياه النظيفة. - يعمل على زيادة إنتاج المحافظة في كافة المجالات.

- ٤ (١) ١- (✓) ٢- (X) ٣- (X)
٤- (X) ٥- (✓)

(ب) حيث تشتهر سيناء بسباق الهجن الذى يحضره العديد من الوفود العربية ويعمل على تنشيط السياحة - وتشتهر بالسياحة العلاجية لوجود مناطق العيون الكبريتية والرمال الساخنة - وأيضًا تشتهر بمناظرها الطبيعية الخلابة، مثل الجبال الشاهقة ومياه البحر الأحمر الصافية والشعاب المرجانية الملونة.

(النموذج التاسع)

- ١ (١) ١- محافظة القاهرة ٢- نهر النيل
٣- البحر الأحمر ٤- الصحراء الغربية
(ب) - مهام رئيس مجلس الوزراء: يرأس الحكومة ويشرف على أعمالها - مهام الوزراء: كل وزير مسئول عن إدارة مجال واحد من مجالات الحياة اليومية في مصر.

- ٢ (١) ١- متنوعة ٢- المائى ٣- سنفرو
٤- الحضر ٥- البخار
(ب) لخفض معدلات تلوث الهواء والمحافظة على البيئة.

- ٣ (١) ١- القاهرة ٢- الريان
٣- قناة السويس ٤- البطالة
(ب)

عصور ما قبل التاريخ	العصور التاريخية
- الدخان. - الأصوات. - قرع الطبول. لإرسال الإشارات للآخرين بهدف تحذيرهم من خطر ما أو الإعلان عن مكانه.	- كتابة الرسائل على ورق البردى وإرسالها مع الرسل للبلاد المختلفة. - استخدام الحمام الزاجل لإرسال الرسائل لأنه أسرع. - عرف البريد، وأصدرت مصر أول طوابعها البريدية عام ١٨٦٦ م.

- ٢ (١) ١- الصناعة ٢- بونت ٣- توفيق
٤- معلوماتية (تكنولوجية) ٥- متحف مفتوح
(ب) إصدار قانون المرور - وضع كاميرات على الطرق.

- ٣ (١) ١- الهكسوس ٢- الصحة
٣- القاهرة ٤- الإسكندرية
(ب)

جهود الدولة للحفاظ على الآثار المصرية	جهود الدولة لتنمية السياحة في مصر
- صيانة المناطق الأثرية، وترميمها. - إصدار قوانين تجرم الاتجار بها والاعتداء عليها. - تنظيم عملية البحث والتنقيب عن الآثار والإشراف عليها. - تنفيذ عمليات ترميمها بواسطة المتخصصين. - التخطيط لمشروعات تطوير المناطق الأثرية، مثل مشروع تطوير مدينة القاهرة التاريخية.	- إنشاء وتطوير المنشآت السياحية مثل القرى والفنادق. - صيانة المناطق الأثرية وترميمها. - تطوير وسائل النقل والمواصلات. - استخدام الأساليب التكنولوجية في التسويق السياحي.

- ٤ (١) ١- (صواب) ٢- (خطأ) ٣- (صواب)
٤- (خطأ) ٥- (صواب)
(ب) المشكلات الاجتماعية تهدد أمن واستقرار المجتمع وتزيد معدلات الجريمة.

(النموذج السابع)

- ١ (١) ١- البحر الأحمر ٢- دير سانت كاترين
٣- المتوسط ٤- النيل
(ب) ١- حيث يوجد العديد من الأماكن التراثية مثل محمية وادى الريان ومحمية رأس محمد ومحمية الغابات المتحجرة وسور مجرى العيون وقلعة صلاح الدين.
٢- حيث تساهم منظمة اليونسكو في ترميم بعض المدن القديمة مثل: مدينة صنعاء القديمة في اليمن.

- ٢ (١) ١- الدخان ٢- الغواصات ٣- ارتفاع تكلفته
٤- أبو مينا ٥- البطالة
(ب) ترتبط مشكلة البطالة بمشكلى الفقر والأمية - وهذه المشكلات تهدد أمن واستقرار المجتمع وتزيد معدلات الجريمة.

- ٣ (١) ١- الكريمة ٢- الوزارات
٣- نعوم شبيب ٤- واحة سيوة
(ب)

وجه المقارنة	التراث الثقافى	التراث الطبيعى
التعريف	يتمثل فى كل ما تركه لنا الأجداد من: (أماكن تاريخية وأثرية - فنون شعبية - صناعات حرفية - قيم وتقاليد اجتماعية)	المواقع الطبيعية الجميلة ذات القيمة العالمية والتي لم يتدخل الإنسان فى صنعائها أو التأثير فيها.
الأمثلة	الأهرامات - قلعة صلاح الدين	- محمية الغابة المتحجرة. - محمية رأس محمد.

- ٤ (١) ١- (صواب) ٢- (خطأ) ٣- (خطأ)
٤- (خطأ) ٥- (صواب)
(ب) لإرسال الرسائل لأنه أسرع

(النموذج الثامن)

- ١ (١) ١- شرم الشيخ ٢- الجيزة
٣- القاهرة ٤- الغربية
(ب) ١- اخترع المصريون القدماء الكتابة الهيروغليفية، واستخدموها فى تسجيل الأحداث والأخبار وأهم الإنجازات مما ساعد فى معرفة الحضارة المصرية القديمة.
٢- ساهمت التكنولوجيا فى تطوير وسائل النقل.

(ب)

وجه المقارنة	سكان أهل بورسعيد	سكان أهل النوبة
مظاهر التراث	- يشتهر السكان بالأغاني المرتبطة بآلة «السسمية»، ويؤدون رقصة فلكلورية تعرف باسم «البمبوطية».	تقام الاحتفالات والمهرجانات التي يرتدى فيها السكان الملابس المحلية، ويرددون الأغاني التراثية النوبية

- ٣ (١) ١- معابد الآلهة ٢- المنيا
٣- الإنترنت ٤- عباس بن فرناس
(ب) ١- لم يصبح التواصل أسرع وأسهل حول العالم.
٢- لم تحدث الثورة الصناعية وتنتج الماكينات

- ٤ (١) ١- شبكة الإنترنت ٢- نقل الركاب ٣- القاهرة
٤- عمل ٥- السلطة التنفيذية
(ب) يحافظ على أرواح الناس ويقلل من الحوادث.

- ٤ (١) ١- الفيوم . ٢- عشر سنوات ٣- السكان
٤- سكك حديدية وطرق مرصوفة.
٥- الإسكندرية
(ب) السياح يأتون إلى مصر لأغراض متعددة مثل: التنزه والترفيه والعلاج وزيارة الأماكن التاريخية أو حضور المؤتمرات والمهرجانات.

(النموذج العاشر)

- ٤ (١) ١- سانت كاترين ٢- وادي الريان
٣- النيل ٤- الشرقية
(ب) ١- تيسير حياة أصحاب الهمم حيث ابتكرت تطبيقات عديدة لمواكبة احتياجاتهم، منها:
تطبيقات على الهاتف المحمول وأجهزة الكمبيوتر بأنواعها لمساعدة الصم والمكفوفين على استخدام التكنولوجيا الحديثة واستخدام وسائل التواصل المختلفة.
٢- لخفض معدلات تلوث الهواء والمحافظة على البيئة.

- ٤ (١) ١- (✓) ٢- (✓) ٣- (✓)
٤- (✓) ٥- (X)



www.Cryp2Day.com

موقع مذكرات جاهزة للطباعة



نهضة مصر

رقم الإيداع: ٧٣٢٣ / ٢٠٢٢